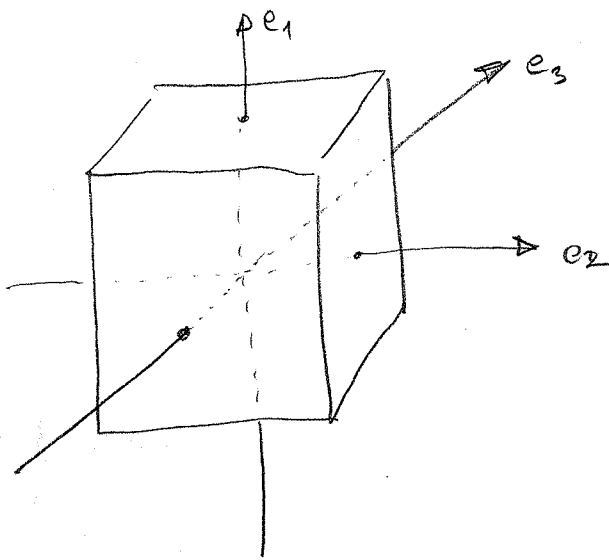


ZH: május 12 \leftarrow délelvi szünet! előtte kedd?
8-tól (előadás első fele)

1. Merev test forgása a fő tehetetlenségi tengelyek körül



főtengelyrendezés:

$$\underline{\Theta} = \begin{pmatrix} A & & \\ & B & \\ & & C \end{pmatrix}$$

feltessük: $A < B < C$

a mozgást a főtengelyrendezésen az Euler-egyenletek írják le:

$$A \dot{\omega}_1 = (B - C) \omega_2 \omega_3$$

$$B \dot{\omega}_2 = (C - A) \omega_1 \omega_3$$

$$C \dot{\omega}_3 = (A - B) \omega_1 \omega_2$$

stabilitásvizsgálat: $\underline{\omega} = \underline{\omega}_0 + \delta \underline{\omega}$

vizsgáljuk, hogy ha $\underline{\omega}_0 = \text{áll. megoldás}$, akkor $\delta \omega$ nő-e?
(Ha nő: instabilitás.)

a) \underline{e}_1 körüli forgás:

$$\underline{\omega} = \underbrace{\begin{pmatrix} \omega_0 \\ 0 \\ 0 \end{pmatrix}}_{\underline{\omega}_0} + \underbrace{\begin{pmatrix} p \\ q \\ r \end{pmatrix}}_{\delta \underline{\omega}}$$

$\delta \omega$ -ban linearizáljuk az egyenleteket:

$$A \dot{p} = 0 \rightarrow p = \text{áll.}$$

$$B \dot{q} = (C - A) \omega_0 r$$

$$C \dot{r} = (A - B) \omega_0 q$$

$$B \ddot{q} = (C - A) \omega_0 \dot{r} = \frac{(C - A)(A - B)}{C} \times \omega_0^2 q$$

azaz:

$$\ddot{q} = \underbrace{\frac{(C-A)(A-B)}{BC}}_{-\lambda^2} \omega_0^2 q$$

$$C > A, B > A : B, C > 0$$

$$\Rightarrow -\lambda^2 < 0$$

\rightarrow rezgésmentes $q \sim q_0 \cos(\lambda t)$ a meggáldás \rightarrow stabil

b) e_2 körüli forgás:

$$\underline{\omega}_0 = \begin{pmatrix} 0 \\ \omega_0 \\ 0 \end{pmatrix} \quad \delta \underline{\omega} = \begin{pmatrix} p \\ q \\ r \end{pmatrix}$$

$$A \dot{p} = (B-C) \omega_0 r$$

$$B \dot{q} = 0 \Rightarrow q = \text{áll.}$$

$$C \dot{r} = (A-B) \omega_0 p$$

\Rightarrow

$$C \ddot{r} = (A-B) \omega_0 \dot{p} = \frac{(A-B)(C-A)}{B} \omega_0^2 r$$

$$\Rightarrow \ddot{r} = \underbrace{\frac{(A-B)(C-A)}{BC}}_{\lambda^2 > 0} \omega_0^2 r$$

$r \sim e^{\lambda t}$ növekvő megg. \Rightarrow instabilitás

c) e_3 körüli forgás:

$$\underline{\omega}_0 = \begin{pmatrix} 0 \\ 0 \\ \omega_0 \end{pmatrix}$$

$$\delta \underline{\omega} = \begin{pmatrix} p \\ q \\ r \end{pmatrix}$$

$$A \dot{p} = (B-C) \omega_0 q$$

$$B \dot{q} = (C-A) \omega_0 p$$

$$C \dot{r} = 0 \Rightarrow r = \text{áll.}$$

\Rightarrow


$$A \ddot{p} = (B-C) \omega_0 \dot{q} = \frac{(B-C)(C-A)}{B} \omega_0^2 p$$

$$\ddot{p} = \underbrace{\frac{(B-C)(C-A)}{AB}}_{\lambda^2 \neq 0} \omega_0^2 p$$


ez is rezgés \rightarrow stabil

2. Tételtekészési nyomaték számítása

-2-



l hosszúságú pálca, egyenletes sűrűségű



$$\underline{\underline{\Theta}} = \int d^3x \begin{pmatrix} y^2+z^2 & -xy & -xz \\ -xy & x^2+z^2 & -yz \\ -xz & -yz & x^2+y^2 \end{pmatrix} \rho(x,y,z)$$

a pálca vékony, y és z irányú kiterjedését elhanyagoljuk

$$\lambda = \frac{dm}{dx} \quad \text{vonalmenti sűrűség}$$

$$\rho(x,y,z) = \begin{cases} \lambda \delta(y) \delta(z) & -l/2 \leq x \leq l/2 \\ 0 & \text{egyébként} \end{cases}$$

integrálás elvégzése: $y=0, z=0$ beírható, csak x -ben integrálunk

$$\begin{aligned} \Theta_{yy} = \Theta_{zz} &= \int_{-l/2}^{l/2} x^2 \lambda \, dx = \lambda \int_{-l/2}^{l/2} x^2 \, dx = \lambda \left[\frac{x^3}{3} \right]_{-l/2}^{l/2} \\ &= 2\lambda \frac{l^3}{24} = \frac{\lambda l^3}{12} = \frac{1}{12} m l^2 \end{aligned}$$

$$m = \lambda l \quad \text{össztömeg}$$

3. A Steiner-tétel bizonyítása

mekkor a tehetetlenségi nyomaték, ha az origót eltoljuk

$$K: \underline{\underline{\Theta}} = \int d^3x \begin{pmatrix} y^2 + z^2 & -xy & -xz \\ -xy & x^2 + z^2 & -yz \\ -xz & -yz & x^2 + y^2 \end{pmatrix}$$

K' : $\underline{\underline{\Theta}}'$ eltolt tengely körül x, y, z helyére x', y', z' -t írunk

ha K' középpontja (X, Y, Z) , akkor

$$x' = x - X$$

$$y' = y - Y$$

$$z' = z - Z$$

$$\underline{\underline{\Theta}}' = \int d^3x \begin{pmatrix} (y-Y)^2 + (z-Z)^2 & -(x-X)(y-Y) & -(x-X)(z-Z) \\ -(x-X)(y-Y) & (x-X)^2 + (z-Z)^2 & -(y-Y)(z-Z) \\ -(x-X)(z-Z) & -(y-Y)(z-Z) & (x-X)^2 + (y-Y)^2 \end{pmatrix}$$

$$d^3x' = d^3x$$

a zárójelket felbontva:

$$\underline{\underline{\Theta}}' = \int d^3x \begin{pmatrix} y^2 + z^2 & -xy & -xz \\ -xy & x^2 + z^2 & -yz \\ -xz & -yz & x^2 + y^2 \end{pmatrix} \rho(x, y, z)$$

$$+ \int d^3x \begin{pmatrix} -2yY - 2zZ & +xY + yX & +xZ + zX \\ +xY + yX & -2xX - 2zZ & +yZ + zY \\ +xZ + zX & +yZ + zY & -2xX - 2yY \end{pmatrix} \rho(x, y, z)$$

$$+ \int d^3x \begin{pmatrix} Y^2 + Z^2 & -XY & -ZX \\ -XY & X^2 + Z^2 & -YZ \\ -XZ & -YZ & X^2 + Y^2 \end{pmatrix} \rho(x, y, z)$$

legyen K a tömegközépponti rendszer. ekkor K -ban

-3-

$$\int x \rho(x, y, z) d^3x = \int y \rho(x, y, z) d^3x = \int z \rho(x, y, z) d^3x = 0$$

\Rightarrow a második tag eltűnik

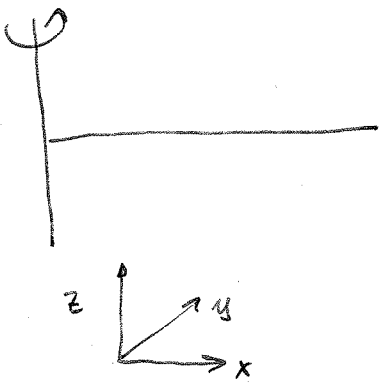
a harmadik tagban a mátrix állandó!

$$\int \rho(x, y, z) d^3x = m \quad \text{tömeg}$$

kapjuk

$$\underline{\underline{\Theta}}' = \underline{\underline{\Theta}}_{TKP} + m \begin{pmatrix} Y^2 + Z^2 & -XY & -ZX \\ -XY & X^2 + Z^2 & -YZ \\ -XZ & -YZ & X^2 + Y^2 \end{pmatrix}$$

alkalmazás: vége körül megpörgetett pálca



$X = -\frac{l}{2}$ az új centrumba mutató vektor.

$$\Theta'_{zz} = \Theta_{zz}^{TKP} + m X^2 = \frac{1}{3} m l^2$$

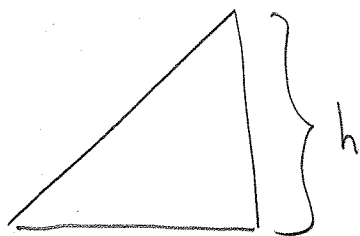
$$\frac{1}{12} m l^2 + m \frac{l^2}{4}$$

$$\frac{1}{12} + \frac{1}{4} = \frac{1}{12} + \frac{3}{12} = \frac{4}{12} = \frac{1}{3}$$

követlen számolással:

$$\Theta'_{zz} = \lambda \int_0^l x^2 dx = \lambda \left[\frac{x^3}{3} \right]_0^l = \frac{\lambda l^3}{3} = \frac{m l^2}{3}$$

4. Golyó legurulása lejtőn




lecslós kö (súrlódásmentes)

$$T + V = \text{áll.}$$

$$T = \frac{1}{2} m v^2 \quad V = mgh$$

ha lent $v=0$ $v_{\text{lent}} = \sqrt{2gh}$



$$K = mg \cos \alpha$$

$$S = \mu K = \mu mg \cos \alpha$$

ha súrlódás is van:

$$v_{\text{lent}} = \sqrt{2gh(1-\mu)}$$

$$\frac{h}{\cos \alpha}$$

$$S \cdot s = \mu mg \cos \alpha \cdot \frac{h}{\cos \alpha} = \mu mgh$$

$$T_{\text{lent}} = V_{\text{ffent}} - W_{\text{súrl.}} = mgh - \mu mgh$$

[ha $\mu mg \cos \alpha > mg \sin \alpha$: nem indul el!]

golyó: $T = \frac{1}{2} m v^2 + \frac{1}{2} \theta \omega^2$

tapadás: kénszer: $v = \omega R$

$$T = \frac{1}{2} \left(m + \frac{\theta}{R^2} \right) v^2$$

$$V = mgh$$

$$v = \sqrt{2gh}$$

$$\frac{1}{\sqrt{1 + \frac{\theta}{mR^2}}}$$

gömb esetén $\theta = \frac{2}{5} m R^2$

$$v = \sqrt{2gh \frac{5}{7}}$$

$$\sqrt{\frac{5}{7}} \approx 0,8452$$

$$\frac{5}{7} \approx 0,7143$$

ha $\mu > \frac{2}{7} \approx 0,2857$: a golyó ér le nagyobb sebességgel